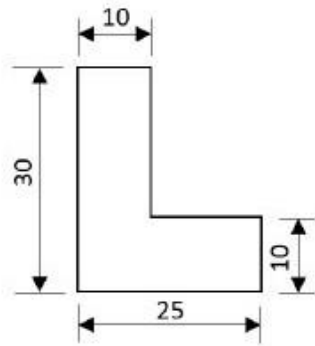


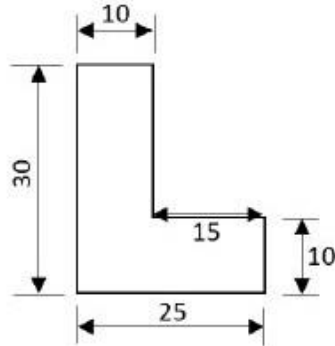
## Φύλλο Εργασίας

1. Αφού μελετήσετε τους κανόνες αναγραφής διαστάσεων,

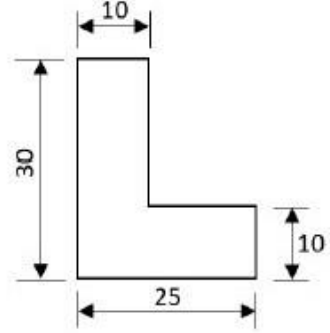
- α. να επιλέξετε (  ) ποιο από τα πιο κάτω σχέδια (Α, Β, Γ) πληροί τους κανόνες αυτούς και  
 β. να βάλετε σε κύκλο τις λανθασμένες αναγραφές διαστάσεων.



A

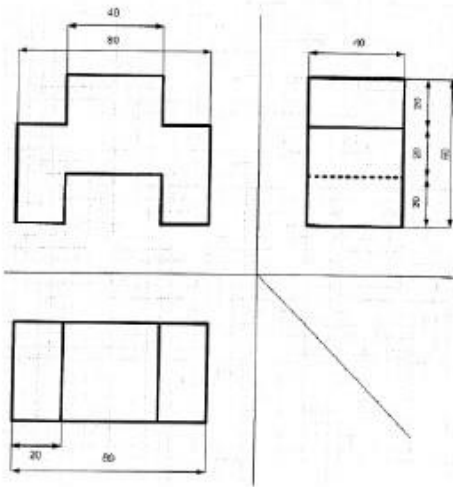


B

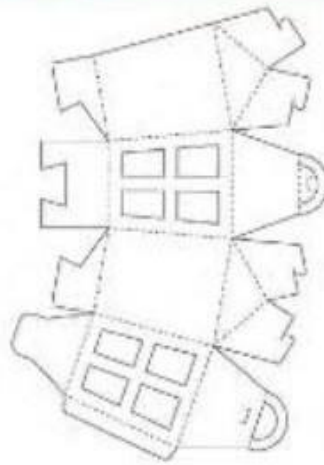


Γ


2. Να αναγνωρίσετε τη μέθοδο σχεδίασης των πιο κάτω:



A .....



B .....



Γ .....